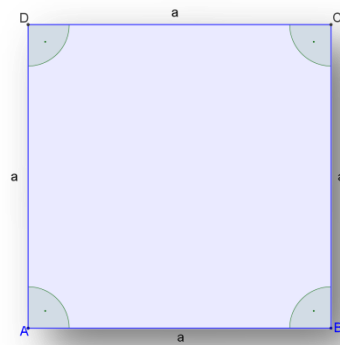
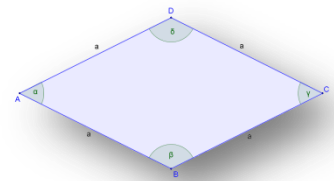


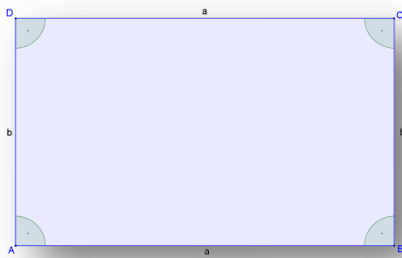
Beschrifte die Vierecke mit ihren Namen. Gib die Bezeichnungen für Eckpunkte, Seiten, und Winkel an.
Zeichne schließlich
Symmetrieachsen und
Symmetriezentren ein.



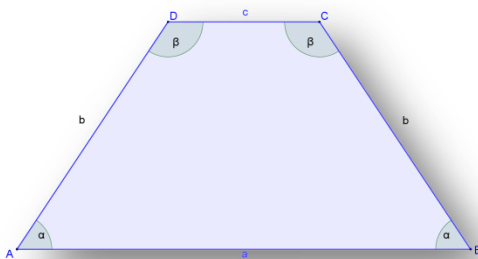
Das Quadrat



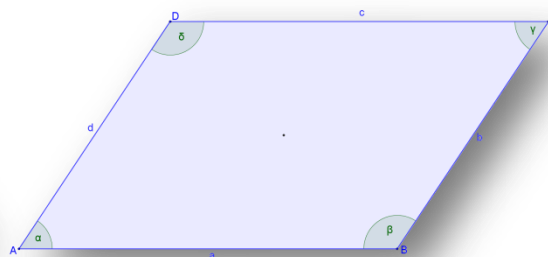
Die Raute



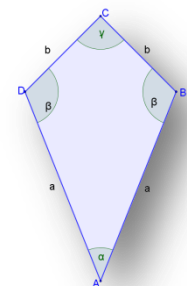
Das Rechteck



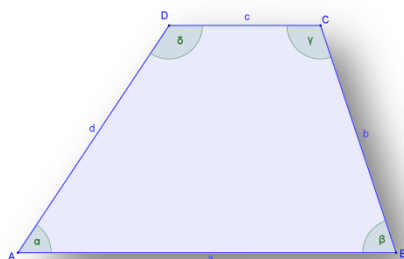
Das symmetrische Trapez



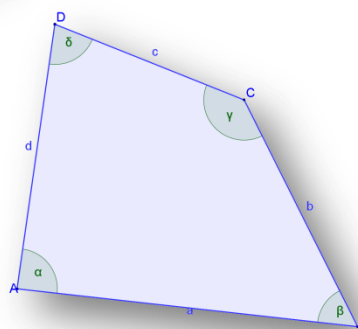
Das Parallelogramm



Das Drachenviereck



Das allgemeine Trapez



Das allgemeine Viereck